





TALLER DE DISPOSITIVOS PERIFÉRICOS

Indicar en cada caso a qué tipo de dispositivos periféricos corresponde cada elemento de hardware colocando el símbolo que le corresponda (de acuerdo a la tabla dada), y diciendo porque es de ese tipo.

	Dispositivo de almacenamiento.
	Dispositivo de salida.
	Dispositivo mixto.
	Dispositivo de entrada.

PERIFÉRICO	TIPO	RAZÓN
		El teclado es dispositivo de entrada porque ingresa la información al computador mediante la pulsación de sus teclas.
		
